


第 2 課 歐洲概述與歐洲西南部—南歐

 優越的自然環境

 輝煌的歷史背景



多元的人文景觀

高度的經濟水準



西半部
已開發國家

東半部
開發中國家



共同分擔

團結合作

歐洲聯盟



歐洲衛星影像圖

三面環海，自然環境優越



大
西
洋

北 極 海

歐 洲

黑 海

裏
海


地

中 海

亞 洲

非 洲

補充



歐洲由許多小面積的國家組成
總面積 1,053 萬 2 千平方公里，僅大於
全世界最小的洲陸—澳大利亞

範圍僅占歐亞大陸面積的五分之一。
與亞洲的自然地理界線不明顯



2-1 歐洲的自然環境



南歐

歐洲文化的發源地

豐富的歷史古蹟 / 文化資產

陽光充足

觀光業發達

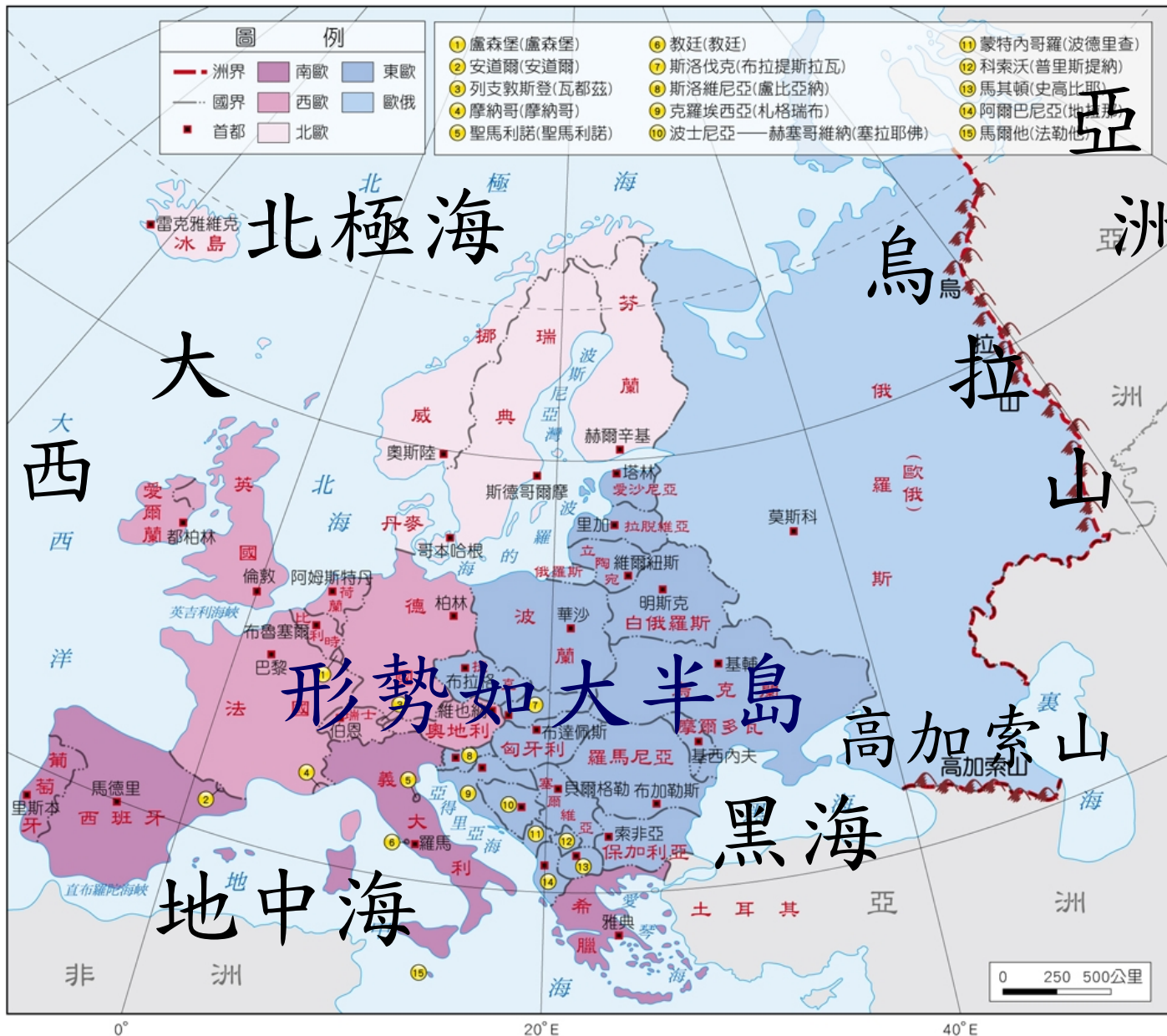


2-1 自然環境

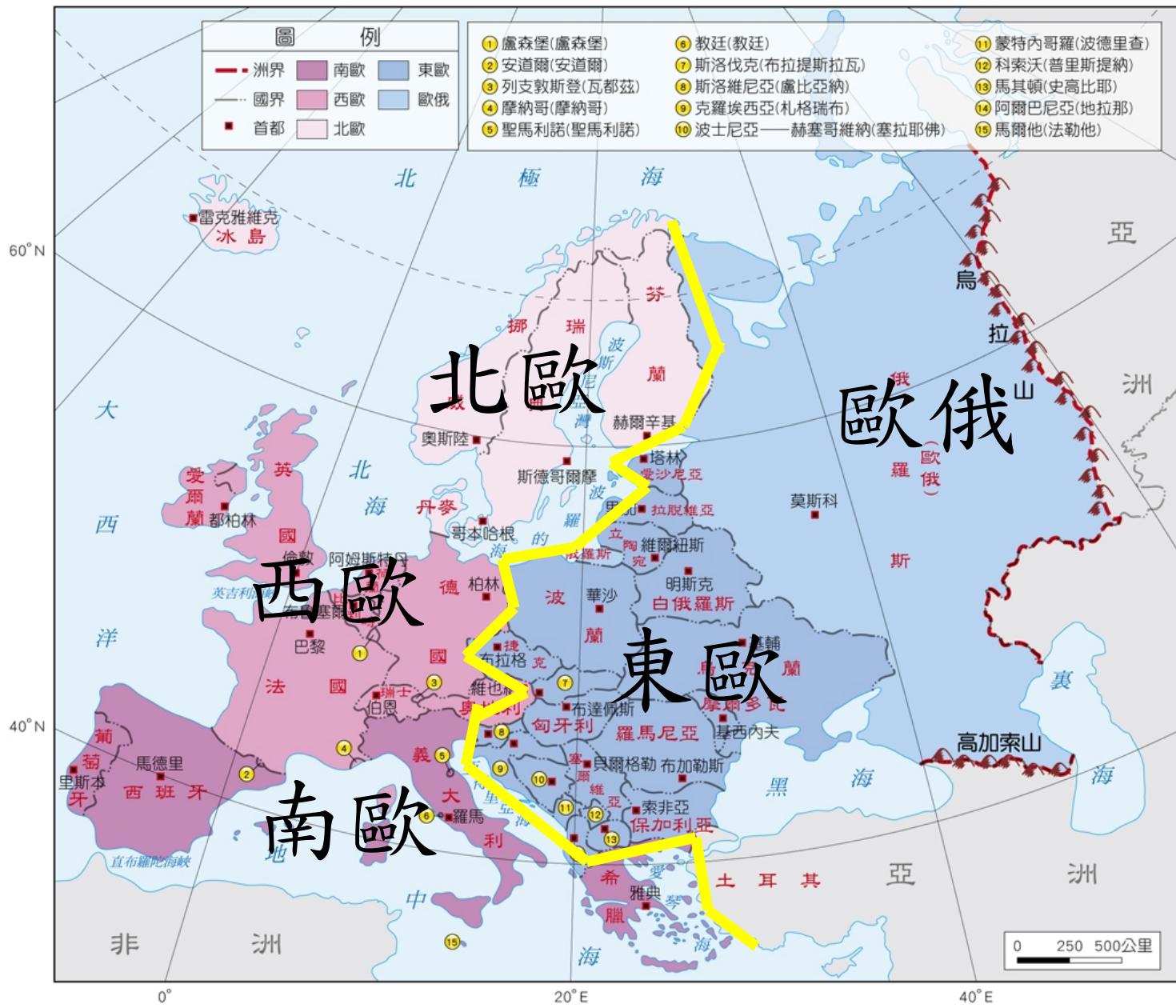
一、位置




大西洋



1-2-2 歐洲分區圖

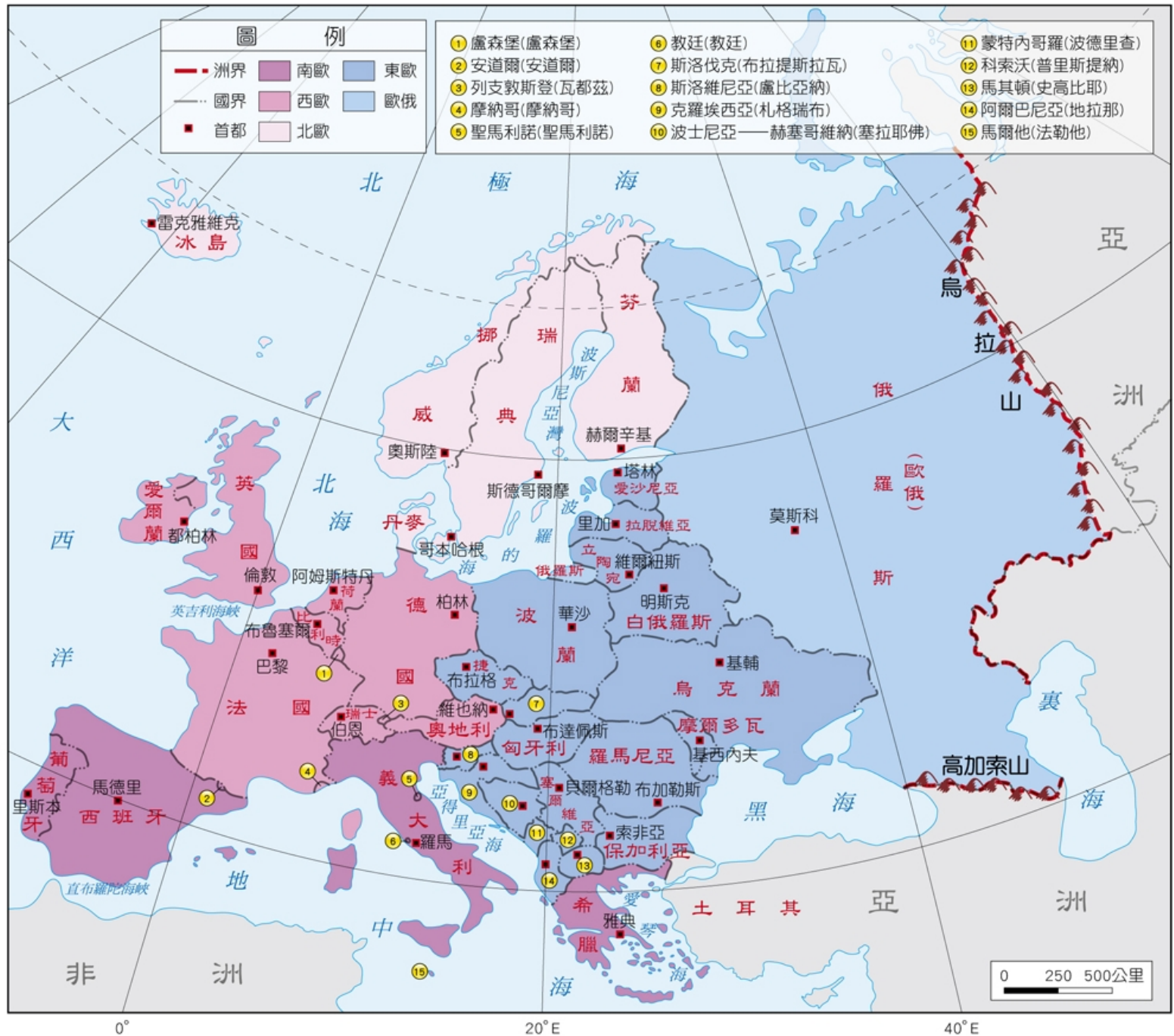


補充



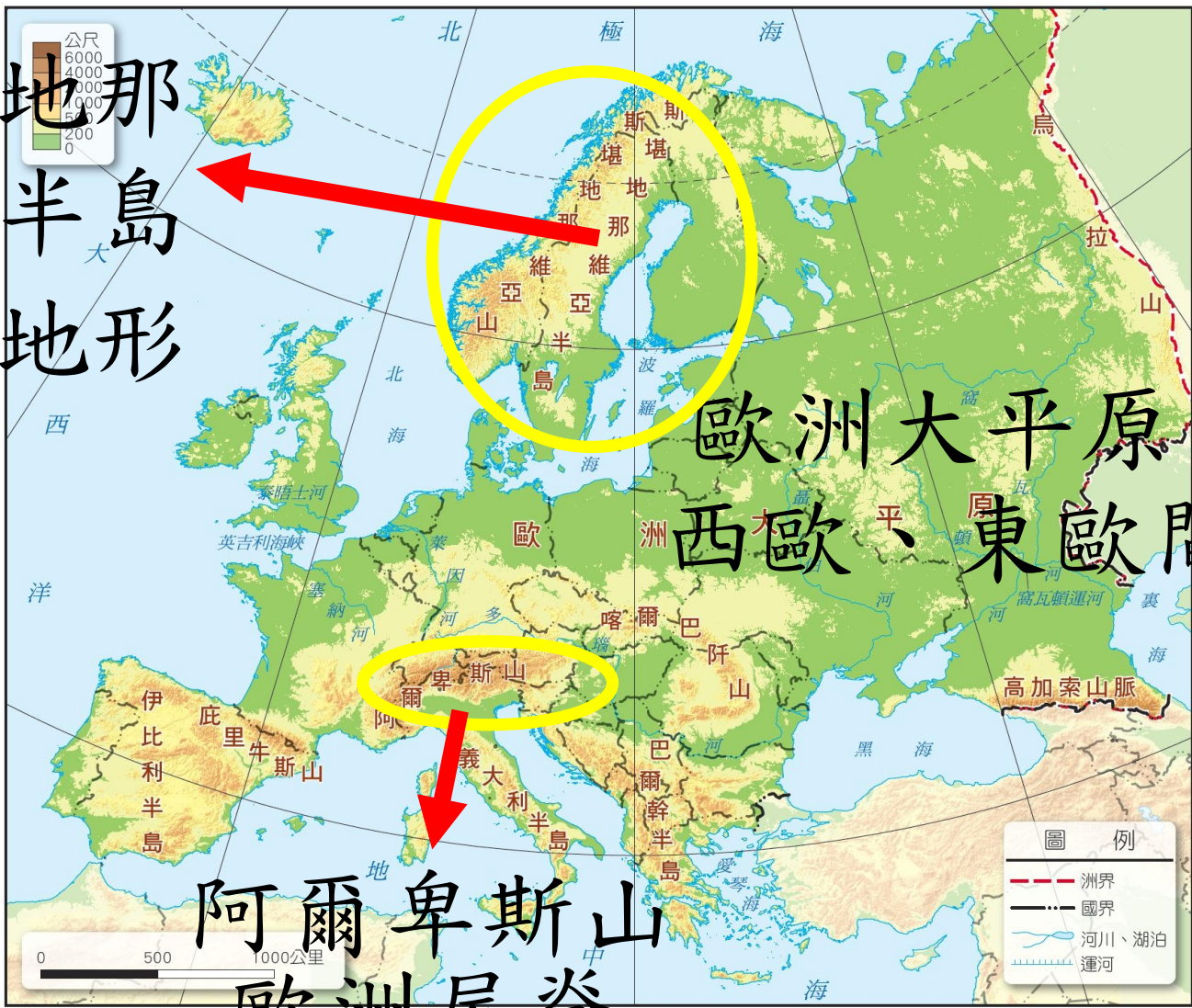
1. 南歐：拉丁民族，瀕臨地中海環境。
2. 西歐：西元十八世紀工業革命興起的強權國家。
3. 北歐：地廣人稀，以福利制度完善著稱。
4. 東歐：曾為俄羅斯統治，西元二十世紀紛紛獨立。
5. 歐俄：俄羅斯位於歐洲的部分，以烏拉山為界。





二、地形 以山地、丘陵和平原為主

斯堪地那維亞半島
冰河地形
發達



阿爾卑斯山
歐洲屋脊

冰河地形



充電站

受重力因素影響，冰層順著低處向下滑動，形成冰河。

臨近兩極高緯度區的冰河：「大陸冰河」*北歐

高山上的冰河：「山岳冰河」*阿爾卑斯山

距今7萬至1萬年間的冰河時期，冰覆蓋在歐洲西北部和北美洲北部。

挪威峽灣水深浪靜 = 優良港灣；斯堪地那維亞半島的冰蝕湖，發展航運、水電和觀光。



冰河

高緯

高山

冰雪
累積

冰河冰

壓力

大陸冰河

重力

山岳冰河

大陸冰河—南極大陸
格陵蘭島

山岳冰河—喜馬拉雅山
阿爾卑斯山
落磯山



利於道路修築

→ 地中海地區和歐洲內陸的天然孔道



二、地形

歐洲多海灣、半島及島嶼

利於海上交通發展



北歐 峽灣



伊比利 半島



義大利 半島

巴爾幹 半島

南歐 谷灣



三、氣候



▲ 西風吹入歐洲內陸示意圖

1. 全境無沙漠：大部分位於中緯度西風帶，大西洋水氣隨西風吹拂帶入歐洲，山脈多東西走向，水氣可深入內陸。全境無沙漠氣候分布。

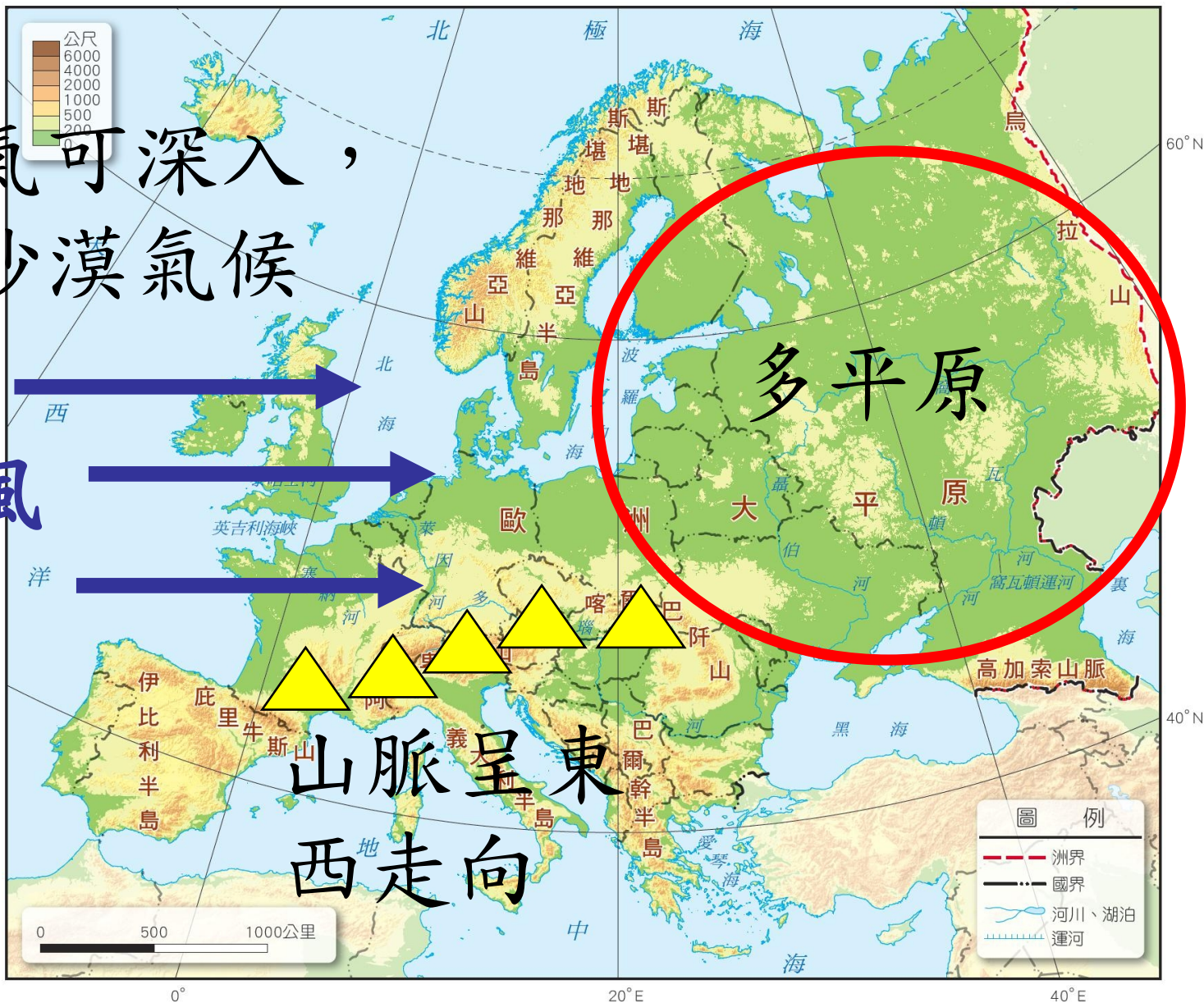
三、氣候

水氣可深入，
無沙漠氣候

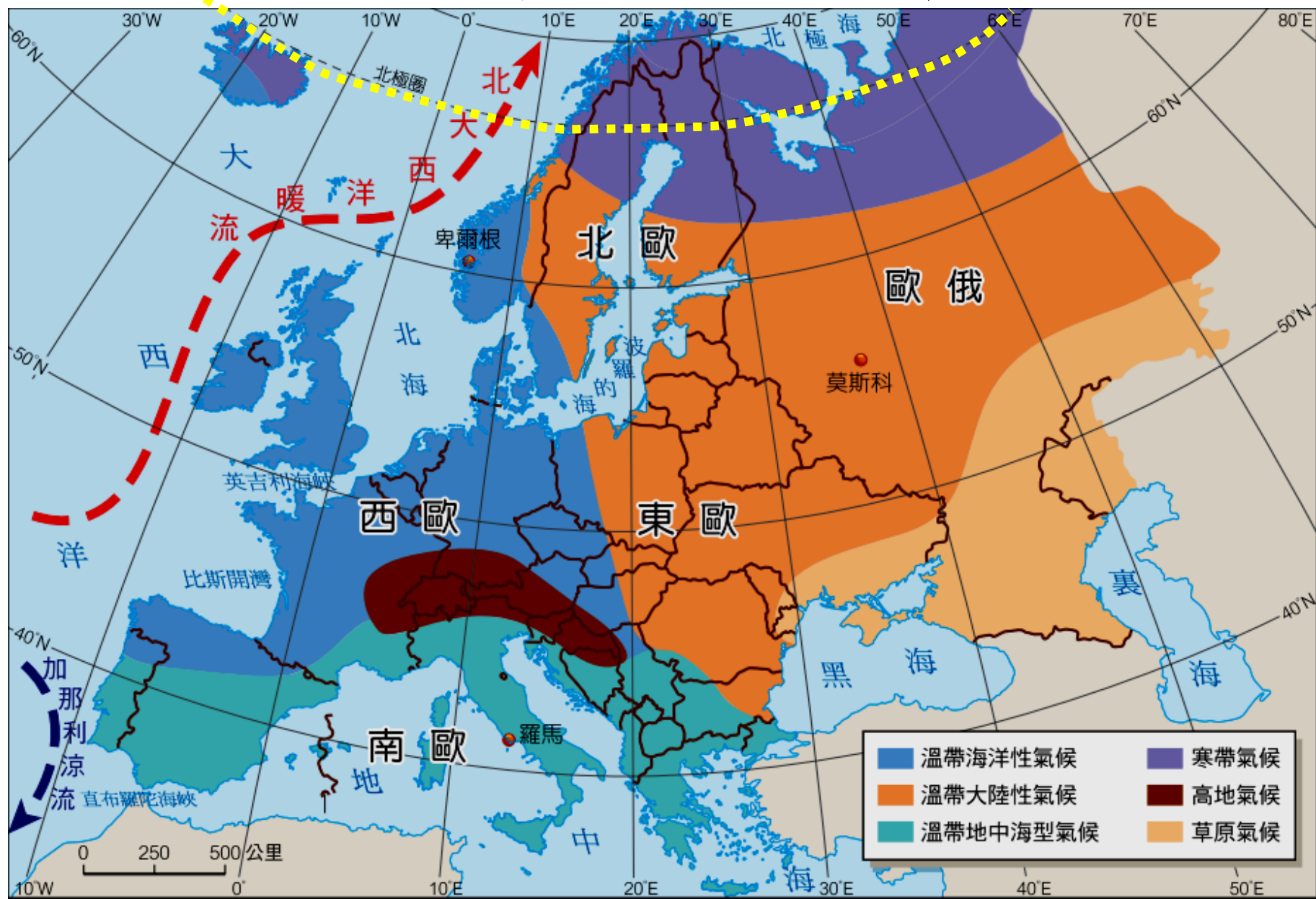
西風



山脈呈東
西走向



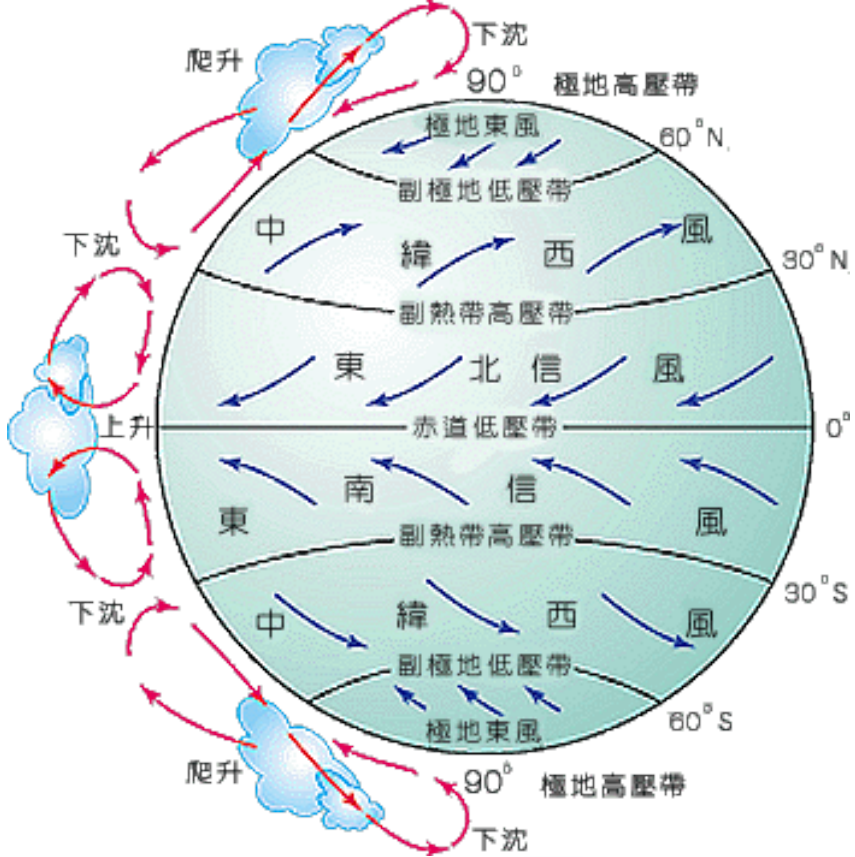
北極圈內部分港口不結冰米終年可通航






氣候分區：受緯度、地形、西風、暖流、距海遠近影響

	氣溫	降水	成因
<p>溫帶地中海型</p> <p>南歐</p>	<p>夏熱冬暖</p> 	<p>夏乾冬雨</p> 	<p>1. 緯度低：南歐北側有阿爾卑斯山屏障</p> <p>2. 涼流（加那利）</p> <p>3. 夏季副熱帶高壓籠罩 冬季西風帶移入</p>
<p>溫帶海洋性</p> <p>西歐，北歐沿海</p>	<p>夏涼冬暖 年溫差小</p>	<p>全年有雨</p>	<p>終年西風 暖流</p>  
<p>溫帶大陸性</p> <p>東歐，歐俄，北歐東部</p>	<p>冬冷夏熱 年溫差大</p>	<p>夏雨冬乾</p> 	<p>距海遠</p>
<p>高地氣候</p> <p>阿爾卑斯山</p>	<p>垂直變化</p>		
<p>寒帶氣候</p> <p>北極圈附近</p>	<p>全年低溫</p>	<p>降水較少</p>	<p>位居高緯</p>

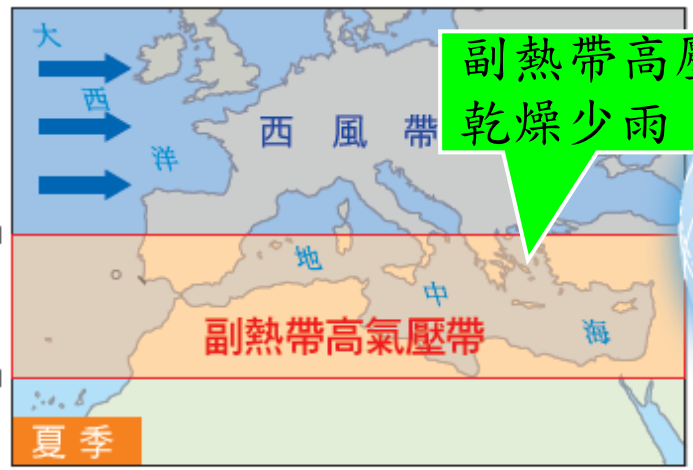


西風：
地球自轉的科氏力
中緯度 40~60 度間
終年吹西風

歐盟風力發電佔世界風力發電總量 1/2 以上



左圖來源



歐洲位於西風帶
風力發電比例高
〈德國的風力發電〉



補充



溫帶地中海型氣候

主要可見於緯度介於 30 ~ 40 度的大陸西岸。

地中海沿岸

美國加州沿海

智利中部

南非西南部

澳洲西南部等



圖來源

共同特徵：

1. 夏乾熱、冬溫溼。
2. 終年日照充足。
3. 多耐旱灌木，農耕賴灌溉。

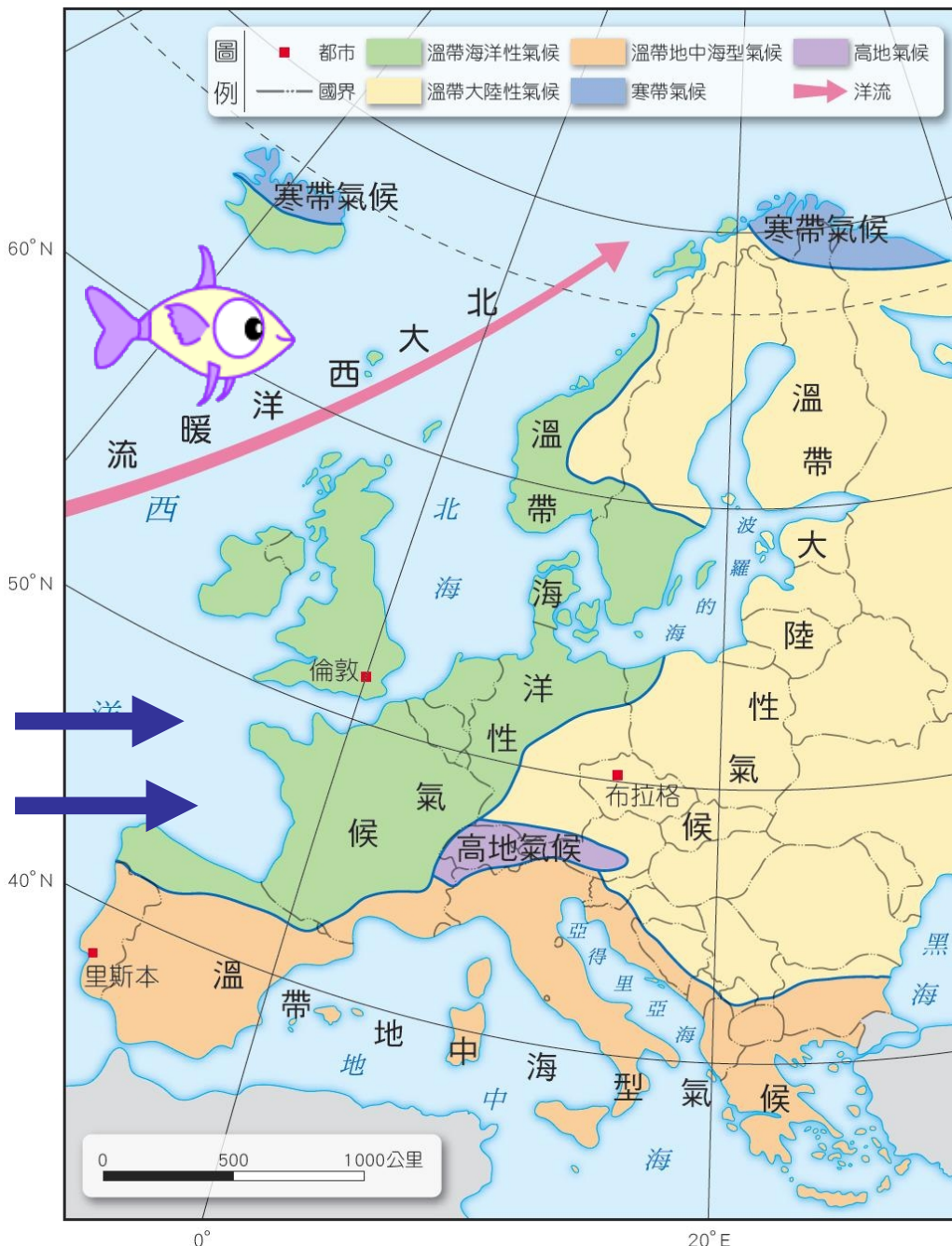


圖來源





西風






屬溫帶氣候
 受西風
 北大西洋暖流調節
 較溫暖溼潤



一、人口特色與現況

1. 人口分布最平均：

-  歐洲自然環境優越
-  適合居住
-  世界人口分布最平均的一洲




區域	總生育率(每名婦女子女數)
世界	4.9 (1965-1970), 2.6 (2005-2010)
非洲	6.8 (1965-1970), 4.7 (2005-2010)
亞洲	5.7 (1965-1970), 2.3 (2005-2010)
歐洲	2.4 (1965-1970), 1.5 (2005-2010)
中南美洲	5.5 (1965-1970), 2.4 (2005-2010)
北美洲	2.6 (1965-1970), 2.0 (2005-2010)
大洋洲	3.6 (1965-1970), 2.3 (2005-2010)

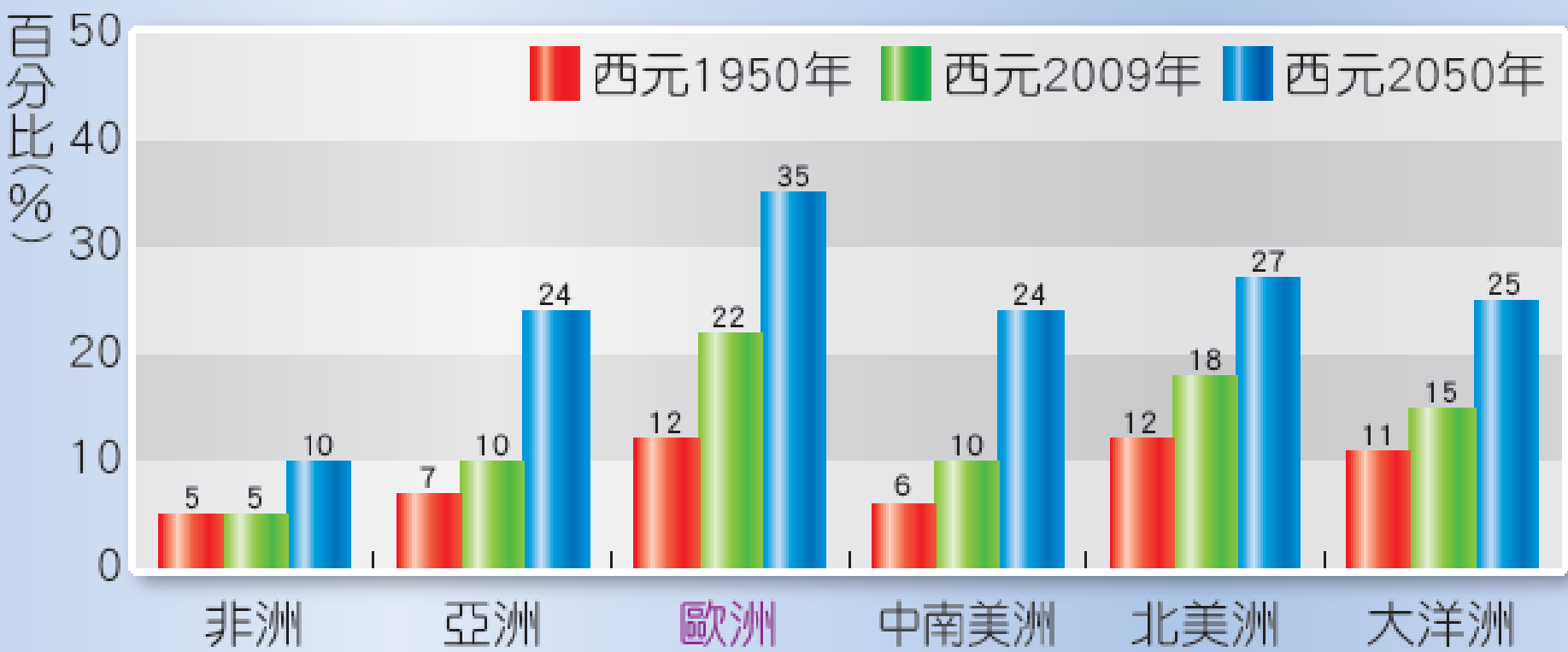
備註：
■ 為西元1965~1970年平均數據
■ 為西元2005~2010年預估平均數據

▲ 世界各洲總生育率

生育為父母帶來的好處（收益）漸低，但撫育子女成本卻漸高，降低高度發展國家婦女生育意願。歐洲、北美洲地最明顯。



一、人口特色與現況



▲ 世界各洲 60 歲以上人口比例

二戰後的嬰兒潮，在經濟發展、醫學昌明、社會制度進步之下，出生率及死亡率皆下降。歐洲因經濟發展時間早，老年人口比例位居各洲首位。



一、人口特色與現況



2. 現況：

- (1) 近年出生率偏低，人口成長停滯，甚至呈現負成長；
- (2) 醫療技術進步，人民平均壽命延長，**歐洲**→**世界老年人口比例最高的一洲**。

圖來源



圖來源

一、人口特色與現況



歐洲人口
分布最平均




亞洲人口集
中於季風區

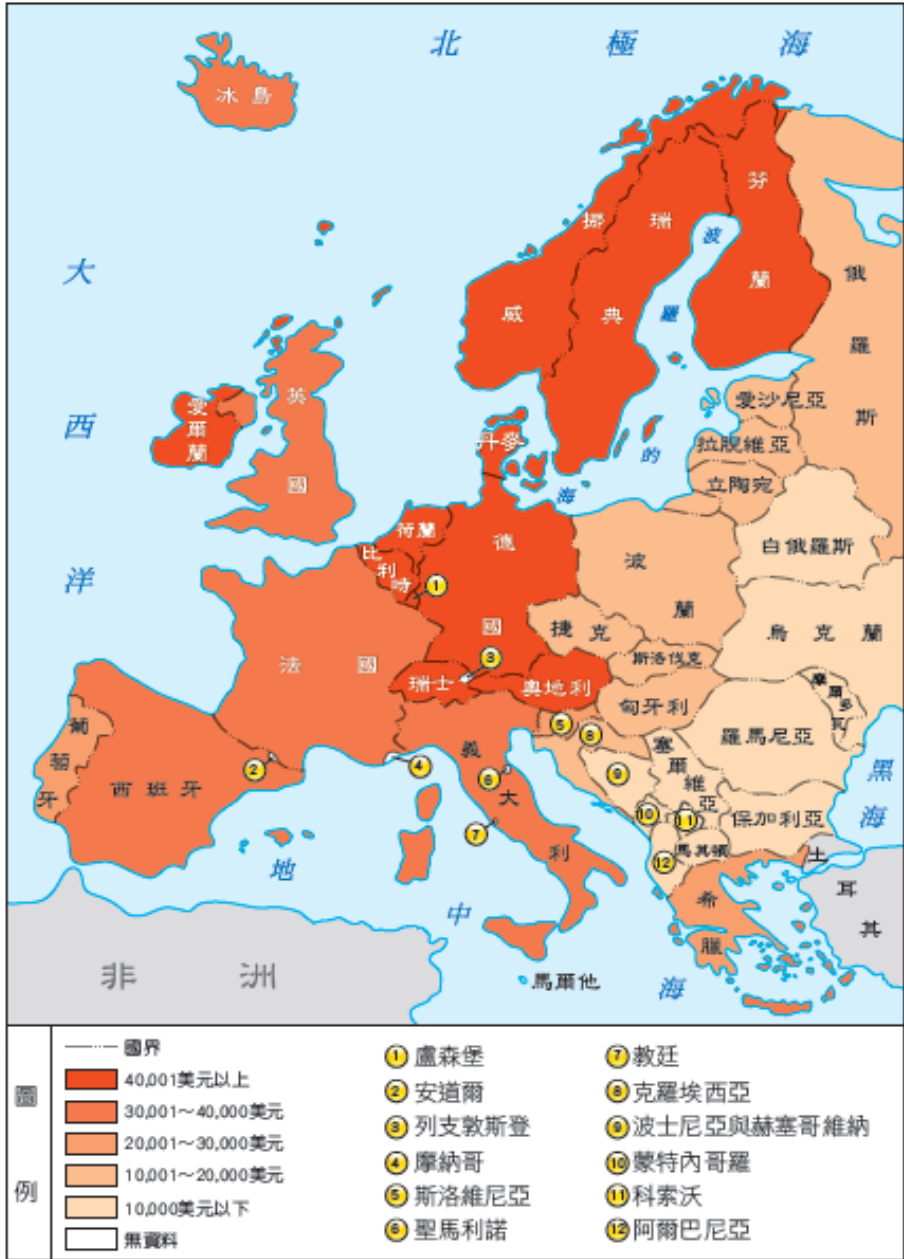
▲ 世界人口分布圖



人口密度(人/平方公里)	
大於800	大於800
400~800	400~800
200~400	200~400
100~200	100~200
50~100	50~100
10~50	10~50
1~10	1~10
小於1	小於1

二、經濟發展與現況

歐洲西半部	歐洲東半部
經濟發展程度較高	昔日深受共產主義影響
社會福利、醫療保健等制度較完善	人民薪資所得普遍較西半部低。
	經濟發展受到限制



▲ 歐洲各國每人平均 GDP 分布圖 (西元 2010 年)

2-2 人口與經濟


各國善用資源

運用先進技術

持續研發高品質或節能
環保產品，與時俱進

歐盟各國間的互惠政策

經濟邁向新紀元



▲ 歐洲各國每人平均 GDP 分布圖 (西元 2010 年)

2-3 歐洲聯盟



1. 緣由：

歐洲國家為**提升國際競爭力**

西元 1993 年正式 成立歐洲聯盟

簡稱歐盟 (European Union, EU)

2. 功能：

(1) 各國資源不同，歐盟將會會員國統合為**單一市場**，貨物、人員、資金與勞力皆可自由流通。


(2) 對內米共享資源、開放市場等
對外米增強產品國際競爭力



歐盟總部：
比利時首都布魯塞爾



補充



歐盟總部設於比利時首都的原因：

1. 比利時居德、法、英、荷等歐洲強國中間，被稱為「歐洲之心」。
2. 比利時為歐盟組織最初創始國之一。
3. 人力素質高且國際化，官方語言為荷、法、德及英語，皆為歐洲強勢語言。
4. 政府開放且鼓勵的態度，使全球約 300 多家跨國公司、1,400 個國際非政府組織在此設立總部。



以上多元且便利的環境，間接增加歐盟統籌歐洲事務的便利性。

補充

歐洲聯盟的「藍天金星旗」，為歐洲會議西元 1986 年決議，沿用原歐洲理事會的會旗。

旗子底色：深藍色

中間：代表完美意象的 12 個金星

排成象徵統一
合作的圓環狀



2-3 歐洲聯盟



2. 功能：

(3) 以**歐元**為共同貨幣，便於國際貿易往來。

(4) 其他領域上


會員國的國家安全、外交等事項也發展出共同政策



讓各國更緊密結盟



促進歐洲經濟成長與政治統一的目標。



歐元符號「€」取自希臘字母，表示希臘文明為歐洲文明起緣地，更因形同歐洲 (Europe) 的第一個字母，而被採用。中間的兩個橫槓，有期許歐元平穩穩定發展的意味。





正面

由比利時皇家造幣廠設計，反面依各會員國特色設計。



反面

義大利設計的反面圖案，羅馬競技場



德國設計的反面圖案，橡樹枝



歐元區的概念起源於西元1992年《歐洲聯盟條約》，依照明定時間表，於西元1999年1月1日起，公布符合歐盟成員國資格的歐洲區國家，並於西元2001年1月正式開始流通實體貨幣。

貨物流通

資金流通

與德國進行貿易，不用繳關稅真好。



免關稅，產品可以便宜賣到法國。

德國

法國

奧地利滑雪

芬蘭過聖誕節

西班牙看鬥牛



都用歐元，交易真方便。

波蘭

我們到比利時旅遊也不用簽證囉！



YA！到荷蘭留學免簽證！

荷蘭

比利時

公司雇用的人才愈來愈多元了。



我住在波蘭，每天到德國上班。

德國

捷克

我住在捷克，到德國上班，工作機會更多了。

人員流通

勞力流通

▲ 歐盟會員國互惠示意圖



3. 東歐國家加入歐盟

近年來，東歐國家不斷加入歐盟，歐洲生產製造由西歐移至東歐，使歐洲市場擴大。東歐低廉的勞工成本，有利臺灣企業向歐洲開拓市場。



補充

脫離共產制度的東歐及俄羅斯，與臺灣產業有很高互補性。俄羅斯及東歐需要臺灣的輕工業產品及中小企業的经营經驗，臺灣需借重捷克的機械業、匈牙利的化學業及俄羅斯的高科技業等，在電子、核能、航太等工業的高水準表現。因此東歐國家分別於西元 1995 年左右成為歐盟成員後，為因應歐洲客戶即時供貨要求，臺商開始將原本設立於西歐的廠房，移至成本只有西歐 1/3，甚至 1/4 的東歐。

例如：

大眾電腦首先在西元 1997 年到捷克設廠

鴻海、光寶松喬及華碩（原在英國設廠），都在西元 2000 年左右遷至捷克。



補充

俄羅斯、東歐在西元一九八〇年代以來，從原來的中央計畫式經濟，短期內轉變成市場經濟→工資上漲、經濟蕭條、通貨膨脹、民生水準下降、財政赤字及對外貿易萎縮。

此外還有民族紛爭、政治結構等非經濟因素的影響。幸好俄羅斯、東歐有穩固的工業基礎，且人民素質比一般開發中國家高，資源豐富，吸引歐、美、日、韓等國的企業

飛利浦、西門子、通用汽車、IBM、豐田汽車、三星、樂金等，紛紛在東歐成立工廠或辦公室。



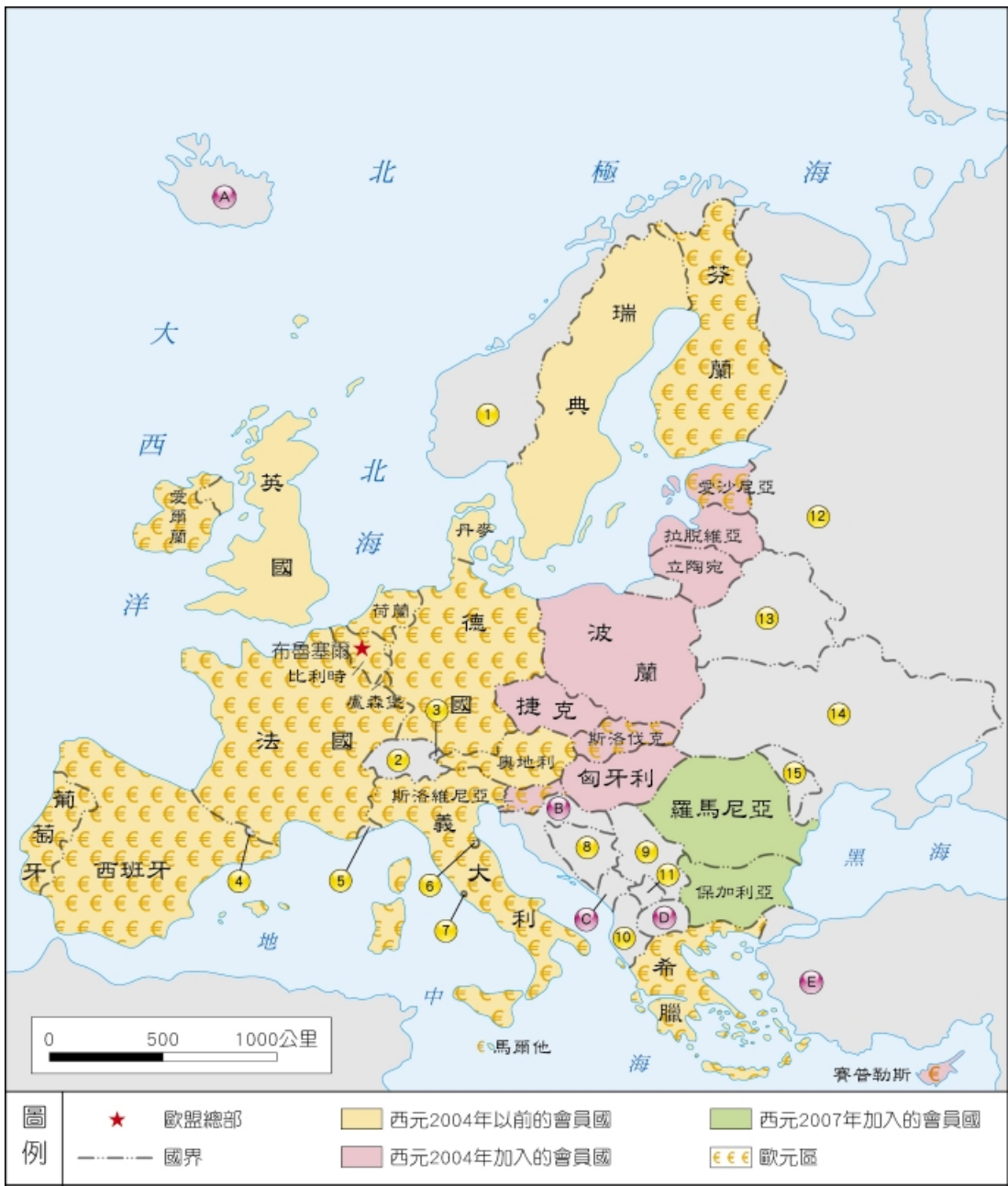
2-3 歐洲聯盟



歐盟會員國分布圖。

西元2011年，
歐盟有27
個會員國

使用歐元17
個會員國



歐盟候選國

- Ⓐ 冰島
- Ⓑ 克羅埃西亞
- Ⓒ 蒙特內哥羅
- Ⓓ 馬其頓
- Ⓔ 土耳其

歐洲未參加歐盟的國家

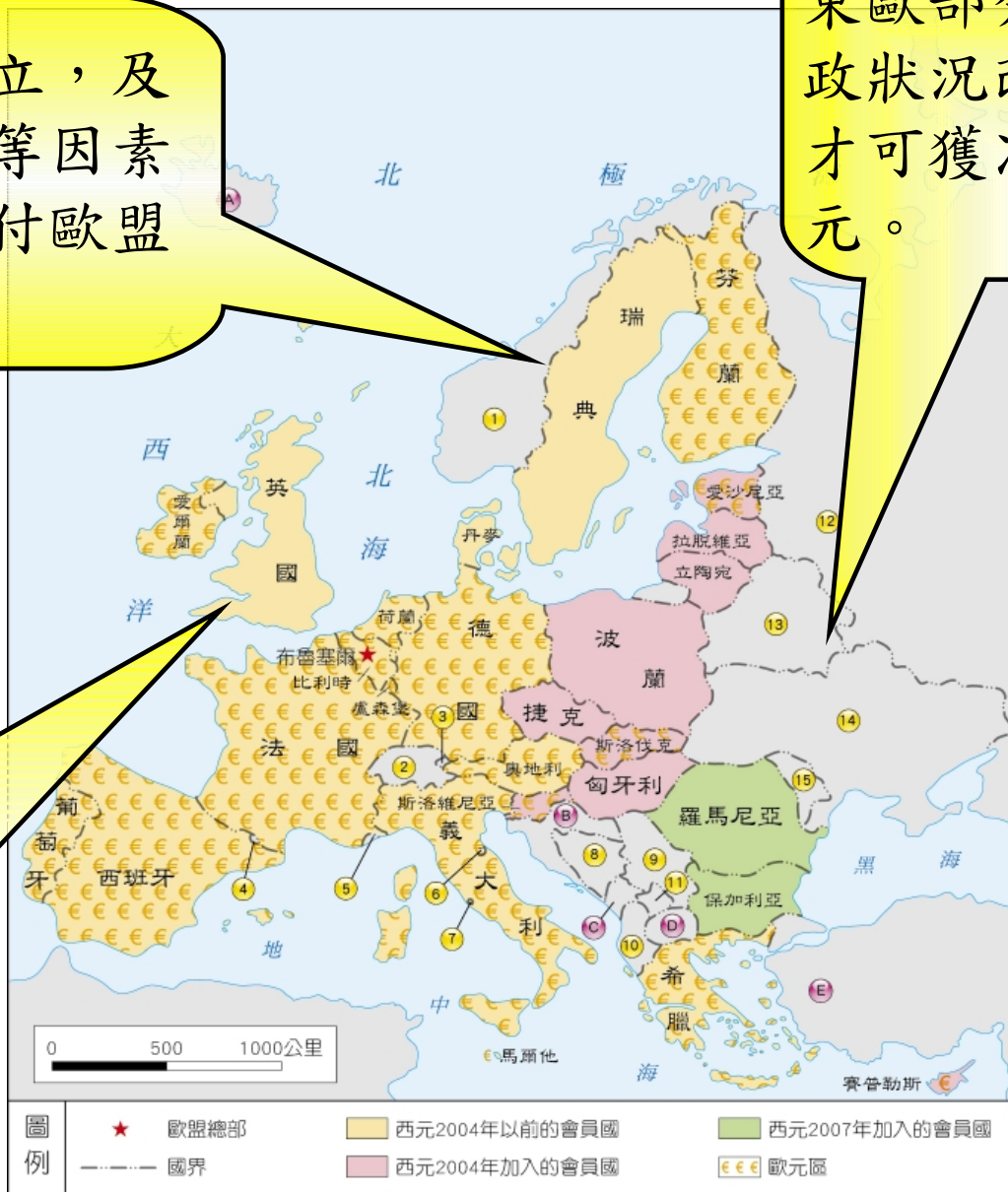
- ① 挪威
- ② 瑞士
- ③ 列支敦斯登
- ④ 安道爾
- ⑤ 摩納哥
- ⑥ 聖馬利諾
- ⑦ 教廷
- ⑧ 波士尼亞與赫塞哥維納
- ⑨ 塞爾維亞
- ⑩ 阿爾巴尼亞
- ⑪ 科索沃
- ⑫ 俄羅斯
- ⑬ 白俄羅斯
- ⑭ 烏克蘭
- ⑮ 摩爾多瓦

挪威重視主權獨立，及北海豐富的油氣等因素，不願將權力交付歐盟，故未加入。



英國、丹麥、瑞典財政狀況良好，仍想保留本國貨幣，暫緩加入歐元區。

東歐部分國家財政狀況改善後，才可獲准使用歐元。




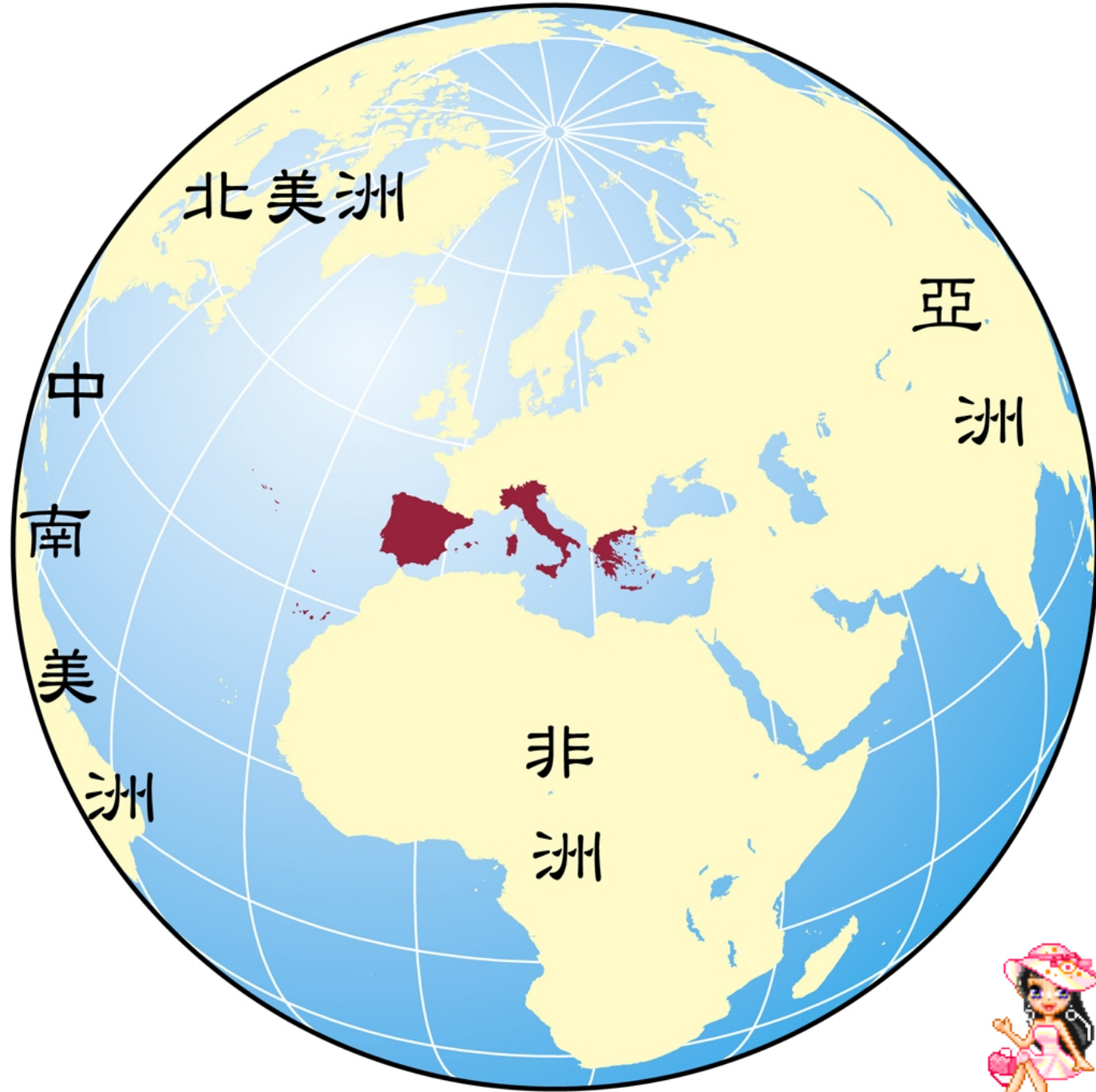
歐盟候選國

- Ⓐ 冰島
- Ⓑ 克羅埃西亞
- Ⓒ 蒙特內哥羅
- Ⓓ 馬其頓
- Ⓔ 土耳其

歐洲未參加歐盟的國家

- ① 挪威
- ② 瑞士
- ③ 列支敦斯登
- ④ 安道爾
- ⑤ 摩納哥
- ⑥ 聖馬利諾
- ⑦ 教廷
- ⑧ 波士尼亞與赫塞哥維納
- ⑨ 塞爾維亞
- ⑩ 阿爾巴尼亞
- ⑪ 科索沃
- ⑫ 俄羅斯
- ⑬ 白俄羅斯
- ⑭ 烏克蘭
- ⑮ 摩爾多瓦

2-4 南歐



2-4 南歐

一、自然環境

伊比利半島—麥西達高原
(古老的隆起陸塊)



▲ 南歐地形圖

義大利半島—
亞平寧山 (斷層海岸)

2-4 南歐

一、自然環境

位置上，巴爾幹半島屬於南歐；
政治上，除希臘外其餘皆曾為共產國家。
因此巴爾幹半島北部的國家常視為東歐。



▲ 南歐地形圖

巴爾幹半島（希臘）——
曲折多灣的谷灣式海岸

2-4 南歐



一、自然環境

地形特徵

多山地、丘陵

因板塊擠壓，火山活動與地震頻繁。

三大半島

伊比利半島

義大利半島

巴爾幹半島

二、南歐主要國家—擁抱陽光與地中海

氣候溫暖、文化多元豐富


物價較西歐／北歐低廉，成
為西歐／北歐居民度假勝地。



1. 西班牙

(1) 觀光業：

位處地中海至大西洋通道上，昔日航海殖民歷史與多元文化，造就豐富藝術作品，如高第建築、畢加索畫作。佛朗明哥舞蹈及鬥牛活動等，吸引大量觀光客，賺取豐厚外匯。



圖來源

(2) 蔬果外銷西歐：

氣候溫暖，透過灌溉技術發展，使沿岸平原盛產蔬果，產品大量外銷西歐，成為重要收入來源。




圖來源

補充



西班牙巴塞隆納的聖家堂，西元1882年由天才建築師安東尼高第設計，但因高第求好心切的态度及經費問題，加上高第車禍身亡後，藍圖及模型毀於戰火中，使得歷經十九～二十世紀的建築工程，至今仍無法完工。



補充



橄欖在全球的主要栽種區幾乎都位於地中海沿岸，其中西班牙、義大利及希臘並稱為世界三大橄欖產國，全球每年約有 150 萬噸的油產量。其中，西班牙每年的橄欖產量約 70 萬噸，全國種植的橄欖約有 60 多種，堪稱全球最大的橄欖產地。

補充



補充



補充



補充

歐洲南部受歐洲板塊和非洲板塊擠壓碰撞，形成阿爾卑斯山、庇里牛斯山等新褶曲山脈，地質年輕，地形起伏大，因而在南歐及法國地區，被稱為全世界景觀變化最豐富的地區之一

白朗峰：義、法間

高 4807 公尺
西歐最高峰



- 歐洲與非洲間的斷層帶，由直布羅陀海峽貫穿地中海，因此鄰近區域地震與火山活動頻繁。
- 義大利半島東部為斷層海岸，境內有多處火山。



維蘇威火山爆發掩埋龐貝城
模擬圖



圖來源

二、南歐主要國家—擁抱陽光與地中海

2. 義大利

(1) 觀光業：

羅馬文明發源地，豐富歷史古蹟和藝術作品，成為著名觀光資源，吸引世界各地遊客造訪，如古城羅馬、文藝復興發源地佛羅倫斯、水都威尼斯，以及國際流行時尚中心米蘭。



(2) 精華區波河平原：

北部波河平原土壤肥沃，水利發達，農產豐富，人口稠密，是全國精華區。



(3) 工業：

主要工業包括大理石礦業及汽車工業，法拉利跑車舉世聞名。



Ferrari 599 GTB Fiorano

圖片來源：[Modena Motori Taiwan Co. Ltd](#)



補充

羅馬競技場坐落於義大利首都羅馬市中心，為羅馬巴安諾皇帝 (Vespasiano) 委託興建的圓形競技場，高 52 公尺，可容納 55,000 ~ 70,000 名觀眾，是皇帝和富有的羅馬市民觀賞格鬥士和猛獸生死搏鬥的舞臺。



1-2-21 羅馬競技場是昔日戰鬥、表演活動的娛樂場所。

義大利羅馬競技場

圖來源：龍騰出版社

補充



補充



威尼斯位於義大利東北方瀉湖區，曾控制整個地中海的貿易往來，被世人稱為「海的新娘」；在西元十五世紀時，與羅馬、佛羅倫斯並列為文藝復興時期的文化重鎮。全城由 118 座小島組成，有 3,000 多條水道、400 多座橋梁，建築物架設在深埋瀉湖底部 8 公尺深的松木圓柱上。包括瀉湖區在內，皆被列入世界遺產

1-2-22 威尼斯有「水上之都」的美稱，貢多拉船為往來聯繫的主要交通工具。

補充



補充



2-4 南歐

二、南歐主要國家—擁抱陽光與地中海

3. 教廷

(1) 位置：位於義大利 羅馬市內西北部

(2) 特色：世界面積最小的國家，首都梵蒂岡城內矗立著世界最大的天主教教堂。



補充

聖彼得大教堂為世界上規模最大/最宏偉的羅馬天主教中心教堂。由君士坦丁大帝資助，在使徒彼得的墓地上建立，勃拉芒特、拉斐爾、米開朗基羅、小莎迦洛、貝尼尼等都曾參與設計，歷時三十年，建成為義大利文藝復興與巴洛克藝術的殿堂。堂內保存米開朗基羅、拉斐爾等名家的壁畫與雕刻。

二、南歐主要國家—擁抱陽光與地中海

4. 希臘

(1) 觀光業：

位於愛琴海沿岸，孕育出古希臘文明，也是奧林匹克運動會起源地。境內豐富的歷史遺跡與海灣風情，吸引不少觀光度假人潮。



圖來源

(2) 海運：

沿海為谷灣式海岸，港灣眾多，自古海運發達。

(3) 石灰岩地形：雖不利農業發展，但可提供當地豐富的建築材料。



2012 倫敦奧運 男子 5000m 決賽

圖來源:國際奧會

1-2-20 希臘 聖托里尼島沿著愛琴海矗立著藍白建築，
形成一幅幽雅且浪漫的景觀。藍色象徵湛藍的海洋，白色
用來反射強烈日照。



補充

希臘的「藍頂白牆」建築，又被泛稱為地中海風格建築，但南歐地區僅以希臘最為常見。相傳是因天主教傳進希臘以後，教堂、修道院等屋頂都漆成藍色，而牆壁本身為白，藍色代表藍天，白色則代表對基督教的忠誠信仰。還有一說是因當地人自古取自當地盛產的白堊土及石灰岩，塗在建築外牆後，發現可反射常年強烈的日照。流傳至今，希臘政府規定在愛琴海沿岸地區，房屋必須漆成白色，以達到降溫與維持觀光景觀的效果。



希臘雅典衛城

圖來源：龍騰出版社







世界足球賽

西元 2010 年，世界盃足球賽於南非熱烈展開。以下 A 至 D 組為打進前十六強賽的國家，請回答下列問題（填代號，如烏拉圭：A1、阿根廷：B1）。



A 組

1. 烏拉圭
2. 墨西哥
3. 荷蘭
4. 日本

B 組

1. 阿根廷
2. 南韓
3. 巴拉圭
4. 斯洛伐克

C 組

1. 巴西
2. 美國
3. 英國
4. 葡萄牙

D 組

1. 德國
2. 迦納
3. 智利
4. 西班牙

世界足球賽

1. 請從 A 至 D 組中，找出位於歐洲地區的國家？
(複選)

A3、B4、C3、C4、D1、D4。



A 組

1. 烏拉圭
2. 墨西哥
3. 荷蘭
4. 日本

B 組

1. 阿根廷
2. 南韓
3. 巴拉圭
4. 斯洛伐克

C 組

1. 巴西
2. 美國
3. 英國
4. 葡萄牙

D 組

1. 德國
2. 迦納
3. 智利
4. 西班牙

世界足球賽

2. 請由歐洲參賽國中，回答下列問題：

(1) 哪些國家位於西歐地區？（複選）

A3、C3、D1。

(2) 哪個國家位於東歐地區？ B4。

(3) 哪些國家屬於夏乾冬雨的地中海型氣候？（複選）

C4、D4。

(4) 哪個國家未加入歐元貨幣？ C3。



教廷的瑞士護衛隊

全世界最小的國家—教廷，整體人數不達千人，其中有 110 人是教宗專用的護衛兵。這些護衛兵著藍、橘、黃三色條紋的制服，且全都指定為瑞士人，是所有教宗在過去 500 年以來，唯一專用的護衛隊。

在歐洲，除了教廷，瑞士也是小國之一，僅僅 4 萬 1 千平方公里的面積中，有 60% 的國土屬於終年積雪的阿爾卑斯山區。因此瑞士人民早期的生活相當貧困，除了以農業、牧業為生外，更有一些年輕力壯的男性，選擇到德國、義大利、法國、教廷等其他歐洲國家，作他國的傭兵，幫忙打仗。

西元 1527 年 5 月 6 日的一場戰役中，教廷內來自各國的護衛隊趁亂逃跑，僅剩下瑞士的護衛隊在援兵到達之前，忠心的保護教宗退出教廷。教宗為了感念此次事件中，瑞士護衛隊堅貞的精神，從此規定教廷的護衛隊只選用瑞士人。

教廷的瑞士護衛隊

現今若想要成為教廷護衛隊的一員，除了必須是瑞士公民，信仰天主教，年齡要在 19 ~ 30 歲之間、身高 174 公分以上外，還要有未婚、受過瑞士軍事學校訓練、擁有技職學校或高中文憑及擁有良好道德背景等條件。在每年 5 月 6 日時，約 30 名入選的新兵會在教廷的聖達馬索庭院，宣讀效忠誓言，宣誓成為教廷護衛隊的一員，並開始他們為時 2 ~ 25 年的服役期。

雖然自西元 1927 年開始，瑞士法律明令禁止瑞士人成為他國的傭兵，但教廷的瑞士護衛隊卻是唯一的例外。如今已超過 500 年歷史的瑞士護衛隊，始終維持最傳統的服飾、指令及誓詞，配有長戟、短刀，堅守勇敢、高尚與忠誠的誓言，保護教廷的安危。

※ 參考資料：

1. 瑞士新聞中文網，取自 <http://www.swissinfo.ch>
2. 雄獅旅遊部落格，取自 <http://blog.liontravel.com>



習作

1. 下面為歐洲地形圖，
請填入正確代號。

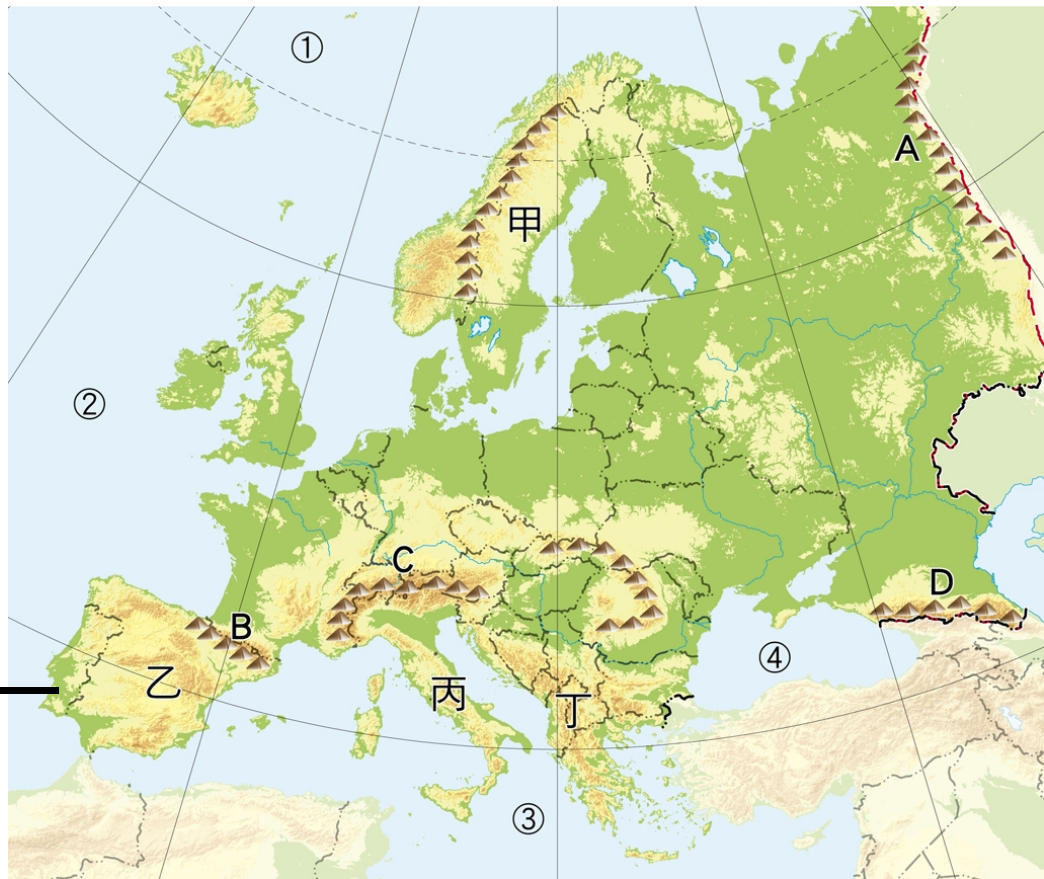
(1) 半島（請填入甲～丁）

伊比利半島：乙

巴爾幹半島：丁

義大利半島：丙

斯堪地那維亞半島：甲



習作

1. 下面為歐洲地形圖，
請填入正確代號。

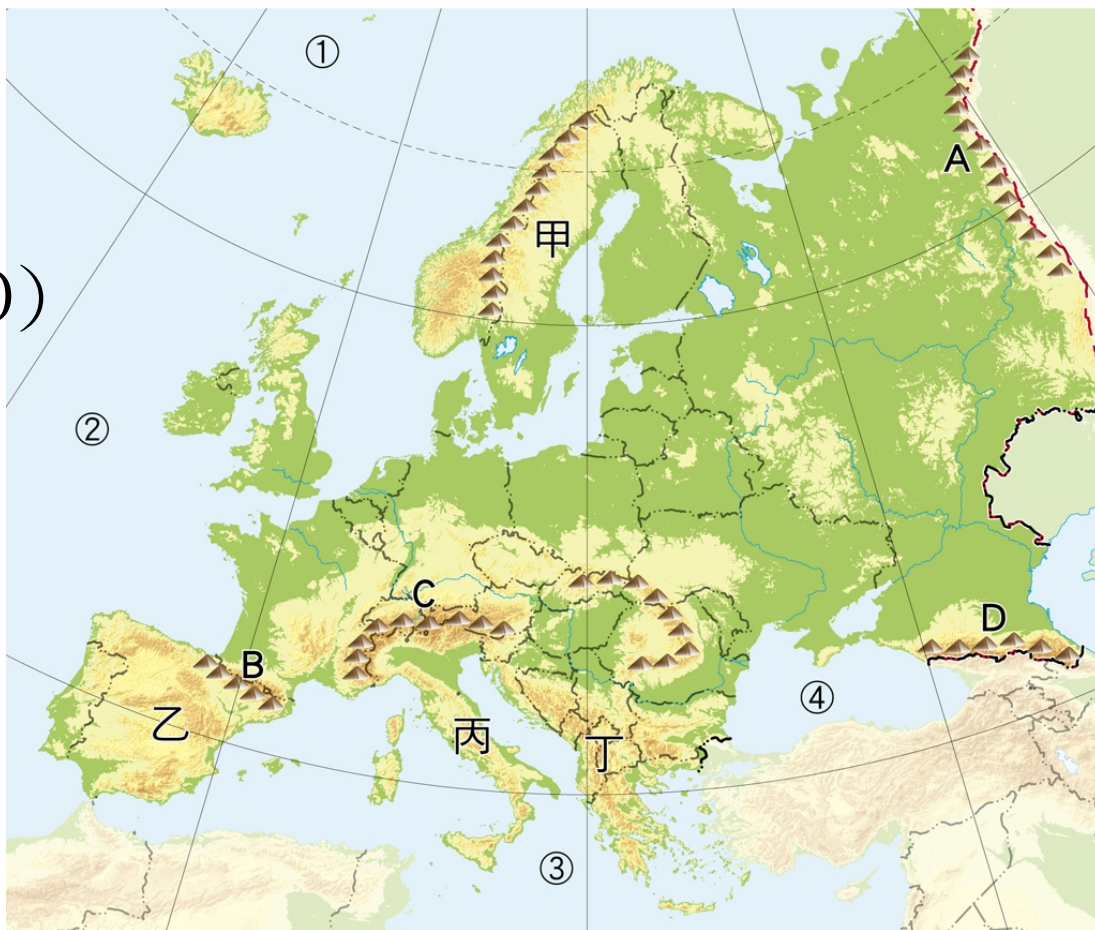
(2) 山脈 (請填入 A ~ D)

烏拉山： A

高加索山： D

阿爾卑斯山： C

庇里牛斯山： B



習作

1. 下面為歐洲地形圖，
請填入正確代號。

(3) 海洋

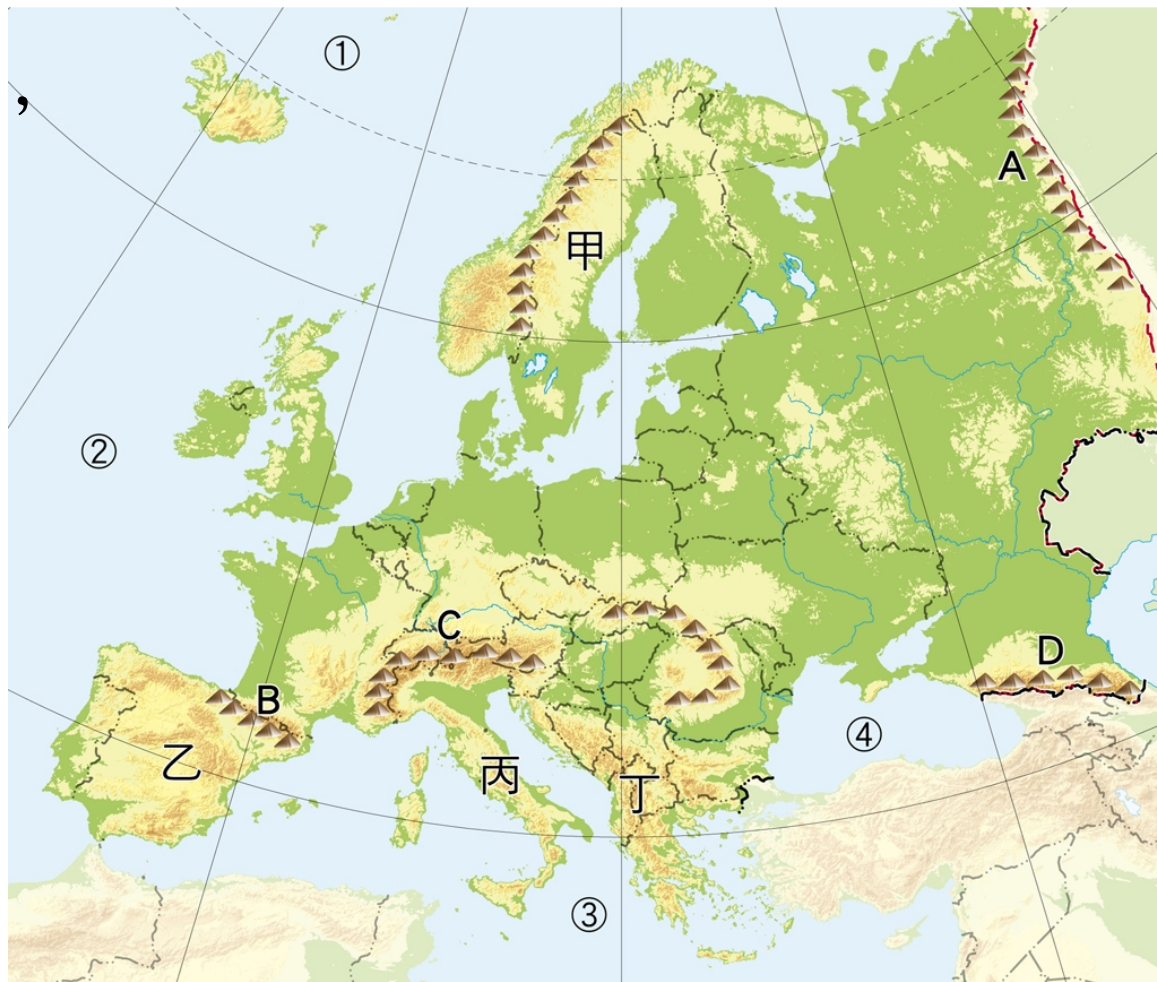
(請填入①~④)

黑海：④

大西洋：②

地中海：③

北極海：①

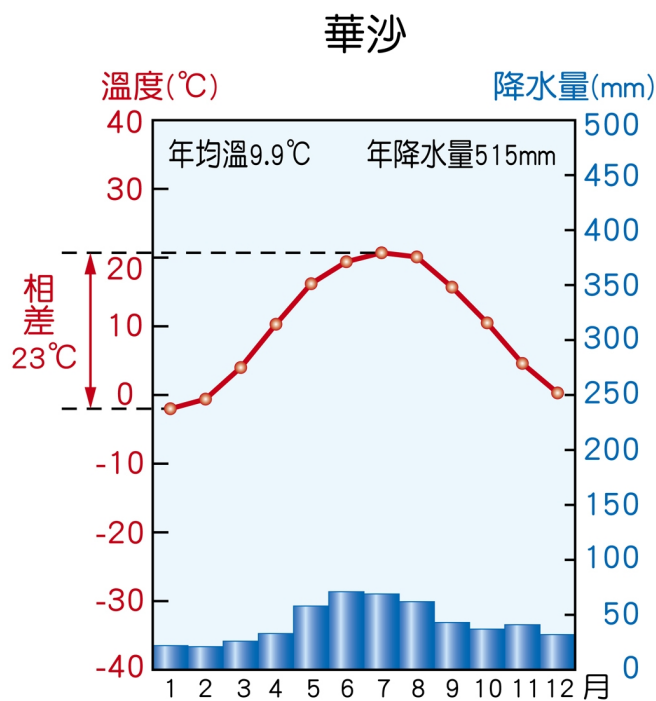


習作

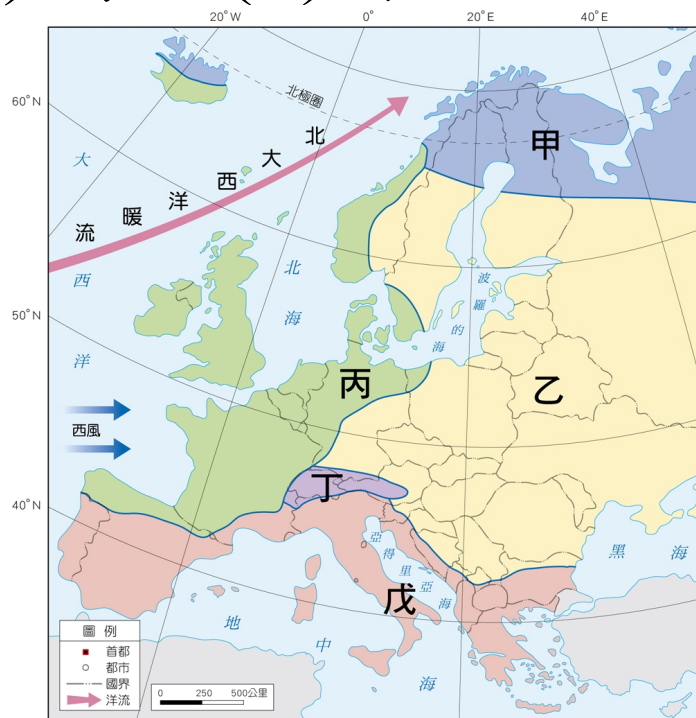
2. 請回答下列問題。

(B)(1) 圖 1 為歐洲某一地區的氣候圖，請問：根據該地的溫度和雨量變化，最可能分布在圖 2 何種氣候類型區內？

(A) 甲 (B) 乙 (C) 丙 (D) 丁



▲ 圖 1



▲ 圖 2

習作

2. 請回答下列問題。

(C)(2) 圖 2 的哪種氣候類型因自然環境特徵，以山牧季移為主要畜牧方式？

- (A) 甲
- (B) 丙
- (C) 丁
- (D) 戊。



▲ 圖 2

習作

2. 請回答下列問題。

(D)(3) 圖 2 的哪種氣候類型因受風帶季移影響，呈現夏乾冬雨的氣候特徵？

- (A) 乙
- (B) 丙
- (C) 丁
- (D) 戊。



▲ 圖 2

習作

2. 請回答下列問題。


(**B**)(4) 地中海型氣候因雨季與作物生長季節無法配合，故需重視_____。請問：

_____ 應填入下列哪個答案？

- (A) 研發 (B) 灌溉 (C) 放牧 (D) 養殖。

(**C**)(5) 下列何種農作物不易出現在地中海型氣候區？


- (A) 柑橘 (B) 橄欖 (C) 香蕉 (D) 葡



2. 請回答下列問題。

(**D**) (6) 下列何者屬於地中海式的建築特色？

(A)



(B)



(C)



(D)



習作

3. 右側為歐洲聯盟會員國分布圖，請回答下列問題。

- (B) (1) 歐洲聯盟會員國的勢力範圍，擴散方向為下列何者？
- (A) 由東向西
 - (B) 由西向東
 - (C) 由北向南。



(C)(2) 在歐洲聯盟的會員國中，哪些資源不可以相互流通？

- (A) 勞力 (B) 資金 (C) 土地 (D) 原料、產品。



(A)(3) 歐元是歐洲聯盟會員國的共同貨幣，但下列哪個會員國不使用歐元？

- (A) 英國 (B) 法國 (C) 荷蘭 (D) 西班牙。



(C)(4) 歐洲聯盟發展的過程中，面臨最大問題為何？

(A) 資金不足

(B) 勞動力過剩

(C) 區域發展不均

(D) 原料、產品品質不佳。

(A)(5) 下列何者為歐洲聯盟的旗幟？

(A)



(B)



(C)



(D)(6) 歐洲聯盟的總部設在何地？

(A) 英國 倫敦

(B) 德國 柏林

(C) 奧地利 維也納

(D) 比利時 布魯塞爾。